

一、選出正確的答案(每題 3 分，共 12 分)

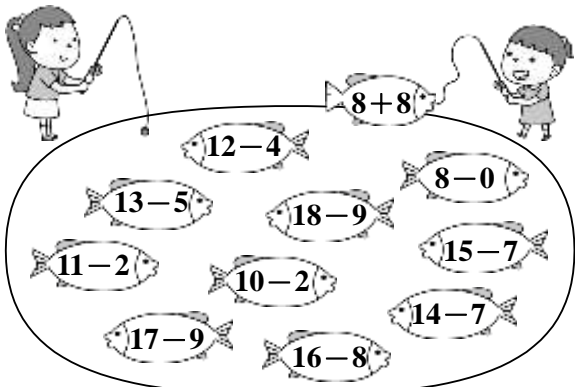
1. ( ) 在兩個算式中  $7+6=\square$  和  $6+7=\bigcirc$ ， $\square$  和  $\bigcirc$  各是多  
 少？ ①  $\square=13$ ， $\bigcirc=12$  ②  
 都是 13 ③  $\bigcirc$  和  $\square$  都是 12
2. ( ) 安安和同學在公園玩鬼  
 抓人，安安當鬼，他只能  
 沿著地磚走，最短可以  
 抓誰？



- ① 美美 ② 丁丁 ③ 小琪
3. ( ) 包子店上午賣出 5 個高麗  
 菜包，下午賣出 9 個高麗  
 菜包，包子店共賣出幾個  
 高麗菜包？ ① 12 個 ② 13 個  
 ③ 14 個
4. ( ) 「哥哥有 7 個花片，弟  
 弟有 5 個花片，兩人共有  
 幾個花片？」哪一個是正  
 確的算式和答案？  
 ①  $7-5=2$  ②  $7+5=12$  ③  $7+4=12$

二、圖圖看看(每個 2 分，共 14 分)

1. 幫姐姐把答案為 8 的魚都圈起來。

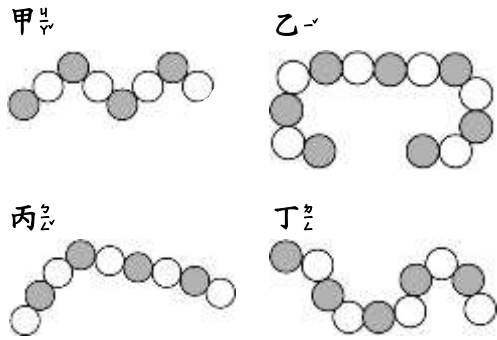


三、圖圖看看(每個 2 分，共 14 分)

1. 美美有 11 枝鉛筆，丹丹  
 有 3 枝鉛筆，美美比丹丹  
 少幾枝鉛筆？

$11+3=14$        $11-3=8$

2. 請將最短的項鍊圈起來。



3. 小金有 9 顆彩色彈珠，小美  
 有 15 顆彩色彈珠。


- (1) (小金，小美) 的彈珠  
 比較多，多 (4, 6) 顆。  
 (2) (小金，小美) 的彈珠  
 比較少，少 (2, 6) 顆。

4. 將答案相同的心算式卡圈起來。

( $8+5$ ), ( $7+5$ ), ( $7+6$ ), ( $6+5$ ), ( $5+5$ )

四、連連看看(每個 2 分，共 10 分)

1. 請幫大家找到合適的襪子。

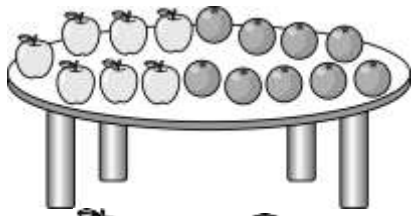


五、看看圖做做看看(每個 2 分，共 30 分)

1. 各有幾顆棉花糖？



$5+6=\square$        $6+6=\square$        $7+6=\square$



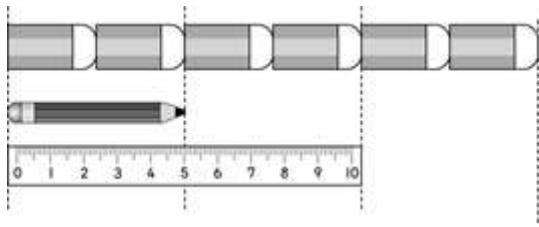
1. 先數  再數 



$$\square + \square = \square$$



2. 先數  再數 



$$\square + \square = \square$$

3. 各有幾顆棉花糖？



(1)  和  ( ) 個一樣長。





(2)  和  ( ) 個一樣長。






(3)  和  ( ) 個一樣長。

4.



(1)  從  經過  到 ，共要走 ( ) 塊。

(2)  從  經過  到 ，共要走 ( ) 塊。

(3)  從  走到 ，比從  走到  多走 ( ) 塊。

六、寫出算式做做看看(每題4分)

，共20分

1. 小茵今天的功課是13行國字，在學校已經寫了8行，小茵回家還要寫幾行國字？  
算式：

( ) 行

2. 姐姐有12張貼紙，妹妹有8張貼紙，姐姐的貼紙比妹妹的多幾張？把做法用算式記下來。

算式：


多 ( ) 張

3. 洗碗槽裡有12個碗，盤子比碗少3個，洗碗槽裡有幾個盤子？

算式：

( ) 個盤子

4. 紅色彩帶和藍色彩帶合起來有幾個寶特瓶長？



算式：

( ) 寶特瓶長

5. 紅鶴區有9隻紅鶴在岸上，有8隻在水裡，共有幾隻紅鶴？



算式：

( ) 隻