

屏東縣恆春國小 108 學年度上學期第三次定期評量
 領域：數學 二年【 】班【 】號 姓名：【 】

一、勾選題：在正確答案前的空格中打✓（每個答案 2 分，共 16 分）

1. 從 8 點到 9 點，分針走了 1 圈，是經過了幾分鐘？

30	40	50	60
----	----	----	----

2. 鐘面上，短針指在 10 和 11 之間，長針指在 9，這時候的數字鐘如何表示？

10: 09	11: 45	10: 45	11: 09
--------	--------	--------	--------

3. 下面哪一個算式的積最大？

6×7	9×4	5×8	7×6
--------------	--------------	--------------	--------------

4. 【3 個 5】和下面哪一個選項意思相同？

$3 \times 5 = 15$	$5 \times 3 = 15$	$3 + 5 = 8$	$5 + 3 = 8$
-------------------	-------------------	-------------	-------------

5. 長針從 12 走了 7 大格又 2 小格，是經過了幾分鐘？

37	35	33	16
----	----	----	----

6. 下面哪一種東西可以比較物品的重量？

碗盤	直尺	天平	秤
----	----	----	---

7. 「看起來比較大的東西就比較重」，這句話對不對？


對	不對	不一定
---	----	-----

8. 在天平兩邊放上不一樣東西，比較高的那邊表示甚麼？

比較重	比較輕	不一定
-----	-----	-----

二、比一比：每格 2 分，共 22 分

1. 仔細觀察天平，將三樣物品由輕到重填在()中填入 1、2、3



2. 哪一個比較重？比較重的在()中畫○，比較輕的打×：

①

大象	兔子

②

汽車	腳踏車

③

() ()

④

() ()

三、填一填：每格 1 分，共 16 分

1. 完成 9 的乘法表：

×	1	2	3	4	5	6	7	8	9
9			27		45			72	

2. 1 組七巧板有 7 片

(1) 3 組共有幾片？ () × () = ()

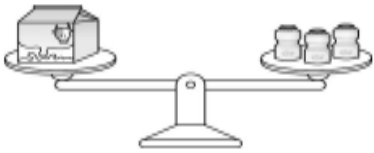
(2) 5 組共有幾片？ () × () = ()

(3) 7×5 比 7×3 多 () 個 7，是多 ()。

(4) 7×6 比 7×9 少 () 個 7，是少 ()。

四、看圖做題：共 22 分


1.



(1) 1 瓶牛奶和 () 瓶養樂多一樣重。(2 分)


(2) 3 瓶牛奶會和 () 瓶養樂多一樣重。(2 分)

2. 下面是小豐上午午的活動，依照時刻的先後順序在右上方方的□中填入 1~4：



(每答 2 分)

3.



- (1) 上圖時針指在數字 () 和 () 之間，分針指在數字 () ，是 () 點 () 分。
- (2) 承上題分針再走 1 大格是經過 () 分鐘，是 () 點 () 分。
- (3) 承上題時針再走 1 大格之後是 () 點 () 分。(此題每答 1 分)

五、連到正確的時刻：共 8 分

- (1)  • • ㄅ . 3 點 5 分
- (2) 3:05 • • ㄆ . 3 點 30 分
- (3) 10:05 • • ㄏ . 10 點 5 分
- (4)  • • ㄉ . 5 點 30 分

五、應用題：共 16 分

(加法 2 分，乘法 2 分，答案 1 分)

1. 背 1 首師說心語，可以得 3 點，洪俊背了 6 首師說心語，他一共可以得多少點？

加法算式：

乘法算式：

() 點

2. 智宇跟爸爸要了 4 個 5 元，又跟奶奶要了 4 個 5 元，到翔茂文具行買一盒旋轉蠟筆，請問一盒旋轉蠟筆是幾元？

加法算式：

乘法算式：

() 元

3. 二年五班的同學合買 7 枝彩色鉛筆，每枝賣 8 元，請問他們共要付多少錢？才會剛好。

乘法算式：

() 分

4. 桌球老師在恆春老街賣紅豆餅，1 個紅豆餅賣 8 元，老師買了 8 個，共要付幾元？

乘法算式：

() 元