


一、選擇題 每題 2 分，共 10 分


- 碗裡有 8 顆湯圓，吃掉 3 顆，還剩下幾顆湯圓？
① 6 顆 ② 5 顆 ③ 4 顆。
- 上午 10 點時，鐘面上長針會指到哪個數字？
① 6 ② 10 ③ 12
- 做下面哪一件事花的時間最短？
① 下課休息時間 ② 午睡
③ 晚上睡覺。
- 一盒蛋塔有 6 個，爸爸吃掉 6 個後，還剩下多少個蛋塔？
① 6 ② 3 ③ 0 ④ 2。
- 聖誕老公公公的袋子裡原有 10 份禮物，送出 6 份，袋子裡還剩幾份禮物？
① 4 份 ② 6 份 ③ 10 份

二、填填看看 每題 1 分，共 17 分

1. 順著數，按照數的順序填填看看。



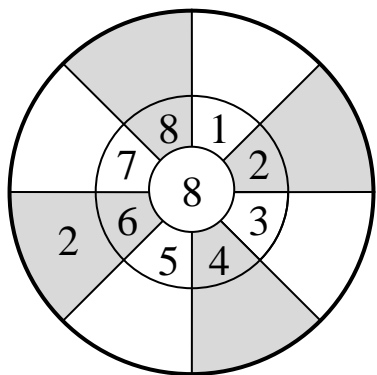
2. 依照由大到小的順序，排出下面各數。



3. 美美和妮妮排隊買飲料。

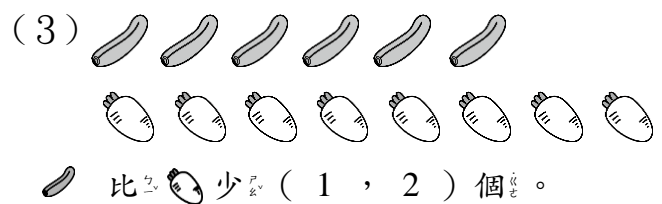


- 美美排在第 21 個，她的前面有 () 個人。
- 妮妮前面有 29 個人，妮妮排在第 () 個。

4. 用中間的數字減去外面的數字。



三、圖圖看看 每格 1 分，共 9 分

1. 小兔的生日到了，牠準備了好多好東西來招待朋友，請你幫小兔看看東西夠不夠？把對的答圈圈起來。



2. 看圖圈出正確的時刻。



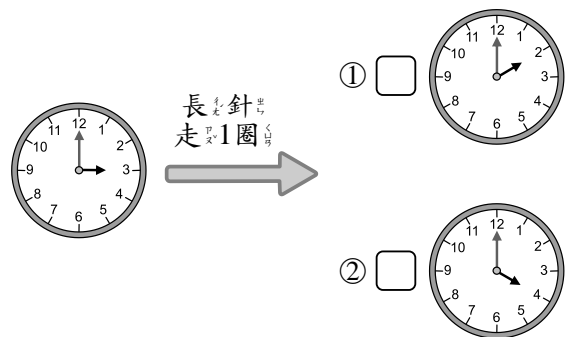
寫功課 (上午 8 點, 下午 8 點)

3. 圈出第 25 枝棒棒糖。



四、勾選題 每格 2 分，共 12 分

1. 把正確的時打勾。



2. 看鐘面填填看：



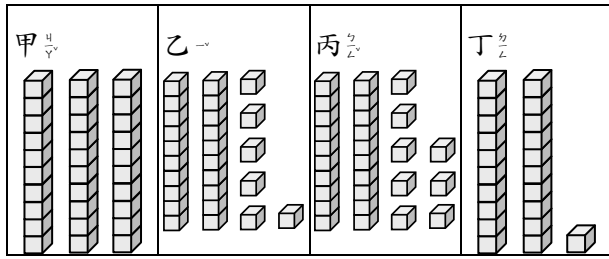
短針指到數字()和()的中間，長針指到數字()，是()點半。

五、連連看 每格 2 分，共 28 分

1.

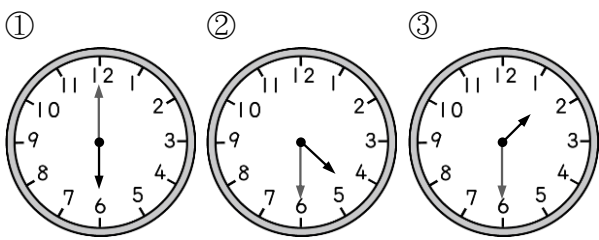
①	②	③	④
二十	二十	三十	二十
一	六	十	八

甲	乙	丙	丁
三	二	三	二
十	十	十	十
一	一	一	一



26	30	21	28
----	----	----	----

2. 把正確的時時間連起來。



4 點半	6 點	1 點半
------	-----	------

3. 先算出答案，再連連看。(每格 1 分)

① 5-2	4	④ 9-6
② 7-2	3	⑤ 7-3
③ 8-4	5	⑥ 9-4

六、寫出算式做做看 共 24 分

1. 樹上有 7 隻蜜蜂，飛走了 4 隻，還剩下幾隻蜜蜂？(4 分)

() - () = ()

剩下()隻蜜蜂

2. 妹妹有 6 張貼紙，姐姐再給她 2 張，妹妹有幾張貼紙？(4 分)

算式：

有()張貼紙

3. 餐廳現在有 10 瓶醬油，老闆用掉 3 瓶後，還有幾瓶醬油？(4 分)



算式：

還有()瓶醬油

4. 教室裡有 10 個小朋友，5 個小朋友跑到走廊上跳繩，現在教室裡有幾個小朋友？(4 分)

算式：

有()個小朋友

5. 琪琪的鉛筆盒裡原有 7 枝筆，琪琪又放了 2 枝，鉛筆盒裡有幾枝筆？(4 分)

算式：

有()枝筆

6. 有 8 顆雞蛋，煮飯用掉 3 顆，還剩下幾顆雞蛋？(4 分)



算式：

剩下()顆雞蛋

