

屏東縣恆春國小 108 學年度上學期第一次定期評量

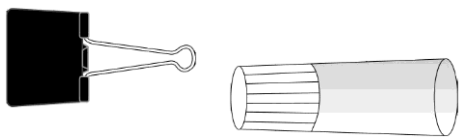
領域：數學 二年【 】班【 】號 姓名：【 】

一、選擇題：每題 3 分、共 18 分

- () 1. 算式「 $33+25=58$ 」中，加數是什麼？
 ①33 ②25 ③58
- () 2. 怎麼用直尺畫出一條 4 公分的直線？
 ①從刻度 5 畫到刻度 9 ②從刻度 2 畫到刻度 4
 ③從刻度 0 畫到刻度 6
- () 3. 「103」讀作什麼？
 ①一百零三 ②一百三十一 ③一百零三
- () 4. 2 個 50 元可以換成幾張 100 元？
 ①5 張 ②1 張 ③2 張
- () 5. 2 個百和 7 個一合起來是多多少？
 ①270 ②720 ③207
- () 6. 弟弟有一枝長 13 公分的鉛筆，用掉 6 公分後，這枝鉛筆剩下幾公分？
 ①7 公分 ②19 公分 ③3 公分

二、比比看：每答 2 分、共 10 分

1. 比比看，哪一個比較長？比較長的在 () 裡打 \checkmark ：



() ()

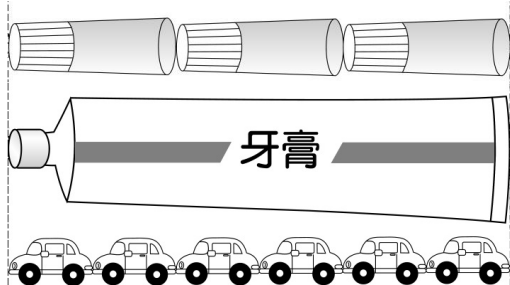
2. 在 \square 中填入 $>$ 或 $<$ ：

$168 \square 186$ $228 \square 227$


$300 \square 299$ $101 \square 110$

三、看圖做做看：每答 2 分、共 18 分

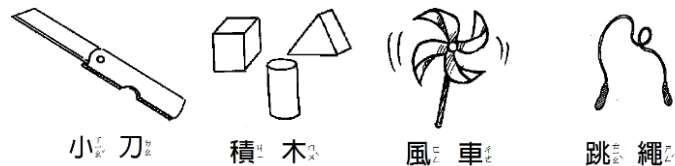
1. 看圖回答下面問題：



- (1) 牙膏和 () 瓶膠水一樣長。
- (2) 牙膏也和 () 輛玩具車一樣長。
- (3) 用哪一種東西量時，個數用的比較少？圈圈看。



2. 小明和大華上街買東西，看圖回答问题：



22 元	89 元	28 元	41 元
------	------	------	------

- (1) 小刀和積木的價錢合起來，大約是幾元？在 \square 中打 \checkmark 。

\square 90 元 \square 100 元 \square 110 元

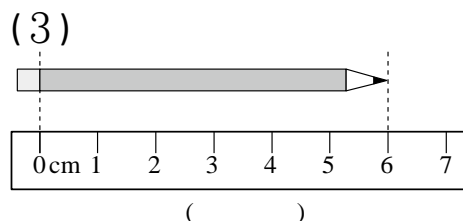
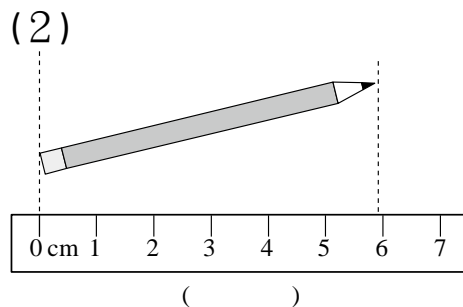
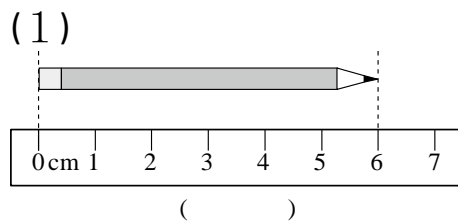
- (2) 風車和跳繩的價錢合起來，大約是幾元？在 \square 中打 \checkmark 。

\square 70 元 \square 80 元 \square 90 元

- (3) 小明帶了 100 元，要買小刀和積木，他的錢夠不夠？圈圈看。

(夠 , 不夠)

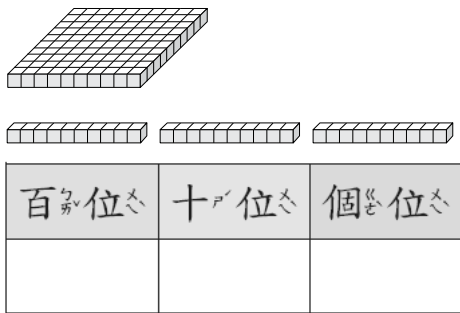
3. 下面哪一種測量物品的方法是正確的？對的在 () 裡畫 \bigcirc ，錯的打 \times ：




四、填填看看：第4題3分，其餘每答2分，共13分

1. 一個漢堡賣39元，小夫買了2個漢堡，共要付()元。

2. 數數看看，在定數位板上填一填。



3. 量量看看，草莓有多長？



約()公分

4. 數數看看，有幾元？



有()元

五、請在正確的選項前打✓：

每題4分，共8分

1. 「小國和哥哥比賽投球，小國投進28球，比哥哥少15球，哥哥投進幾球？」下面哪個算式是正確的？

<input type="checkbox"/>	$28 + 15 = 33$	<input type="checkbox"/>	$28 - 15 = 13$
<input type="checkbox"/>	$28 - 15 = 23$	<input type="checkbox"/>	$28 + 15 = 43$

2. 下面哪一個「一百一十二」的寫法是正確的？

<input type="checkbox"/>	10012	<input type="checkbox"/>	112
<input type="checkbox"/>	121	<input type="checkbox"/>	1102

六、想一想，比20公分短的是在()

裡打✓：每格1分，共5分

- () (1) 一枝彩色筆的長。
- () (2) 教室桌子的長。
- () (3) 一個迴紋針的長。
- () (4) 我的身高。
- () (5) 一個橡皮擦的長。

七、寫出直式算式：每題2分，共8分

① $8 + 57 = (\quad)$	② $49 + 21 = (\quad)$
③ $77 + 52 = (\quad)$	④ $73 + 48 = (\quad)$

八、應用題：每題4分，共20分

1. 弟弟有36張遊戲卡，哥哥有58張遊戲卡，兩人共有幾張遊戲卡？

答：()張

2. 一個橡皮擦長5公分，一枝鉛筆長16公分，接在一起共長幾公分？

答：()公分

3. 罐子裡原有67顆糖果，又放入44顆後，現在罐子裡共有幾顆糖果？

答：()顆

4. 藍絲帶長16公分，紅絲帶長7公分，這兩條絲帶相差幾公分？

答：()公分

5. 騙人布有43頂帽子和38個徽章，魯夫比騙人布多59頂帽子，魯夫有幾頂帽子？

答：()頂