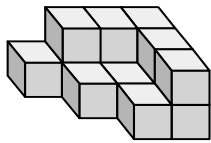


屏東縣恆春國小 107 學年度下學期第三次定期評量

領域：數學 四年【 】班【 】號 姓名：【 】

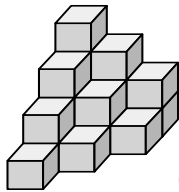
一、選擇題(每題 2 分，共 12 分)

- () 1. 下列何者表示一個時刻？
 ①上午 8 時 26 分 ②4 小時 23 分
 ③3 日 14 小時 ④100 分鐘
- () 2. 一部影片長 2 小時 50 分，從下午 7 時 50 分開始播出，何時會結束？
 ①上午 10 時 50 分 ②下午 10 時 50 分
 ③上午 10 時 40 分 ④下午 10 時 40 分
- () 3. 下列何者表示的時間最長？
 ① 28 小時 58 分 ②1 日 5 小時
 ③ 1600 分鐘 ④96000 秒
- () 4. 從上午 8 時 45 分到下午 3 時 30 分，共經過了多少時間？
 ①5 小時 15 分 ②6 小時 15 分
 ③5 小時 45 分 ④6 小時 45 分
- () 5. 下面形體用了幾個白色積木堆疊出來？



- ①13 個 ②14 個 ③15 個 ④16 個

- () 6. 每個積木的體積是 1 立方公分，下面形體的體積是多少立方公分？



- ① 16cm^3 ② 19cm^3
 ③ 21cm^3 ④ 22cm^3

二、用直式算算看(每題 4 分，共 16 分)

- (1) 5 日 9 時 - 4 日 19 時 (2) 8 時 58 分 + 7 時 47 分

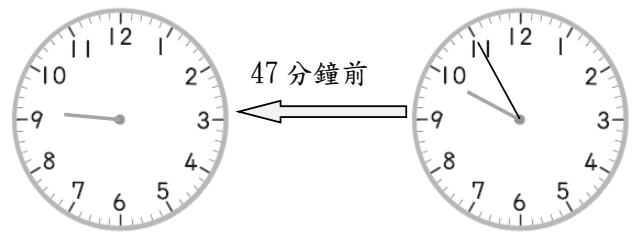
- (3) 9 分 6 秒 - 6 分 14 秒 (4) 4 時 36 分 + 7 時 57 分

三、填入 >、< 或 = (每題 2 分，共 10 分)

1. 10000 平方公分 () 1 平方公尺
 2. 邊長六公尺的正方形面積 () 360000 平方公分
 3. 5 日 2 小時 () 130 小時
 4. 3 日 () 25920 秒
 5. 16 分 22 秒 () 990 秒

四、填填看(每格 2 分，共 8 分)

請寫出鐘面上的正確時間應為幾時幾分：

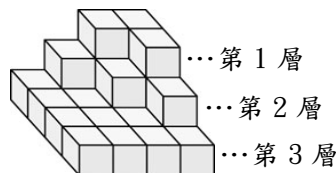


() 時 () 分

() 時 () 分

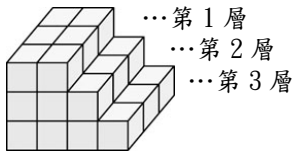
五、看圖填填看(每格 2 分，共 16 分)

(1)



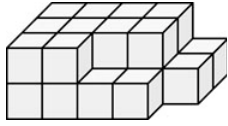
- 第 1 層有 () 個 ,
- 第 2 層有 () 個 ,
- 第 3 層有 () 個 ,
- 共有 () 個

(2)



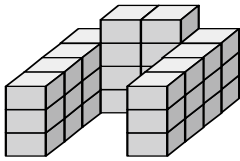
共有 () 個 

(3)



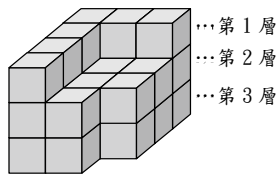
共有 () 個 

(4)



共有 () 個 

(5)

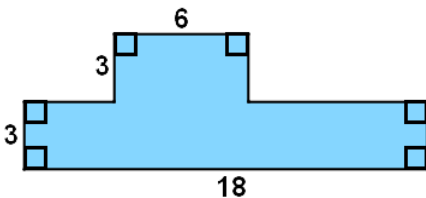


共有 () 個 

六、應用題

(第 1、2、5 題 6 分, 其餘每題 5 分, 共 38 分)

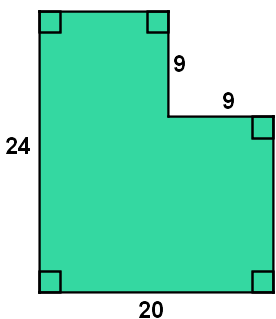
1. 如圖, 這個圖形的「周長」與「面積」各是多少?



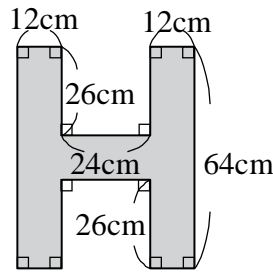
(單位: 公分)

2. 如下圖, 這個圖形的「周長」與「面積」各是多少?

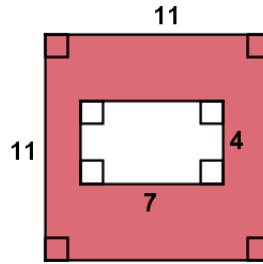
(單位: 公分)



3. 英文字母 H 的「周長」是多少?



4. 如圖, 塗色部分的「面積」是多少?



(單位: 公尺)

5. 鳳梨公司研發出最新型的手機 OMG, 只要充飽電就可以待機長達 50 小時, 請問 OMG 手機可以待機幾分鐘? 也可以說是幾秒鐘?

6. 小明家 11 日下午 6 時恢復供水, 小明家停水了大約 22 小時, 請問小明家幾日幾時開始停水?

7. 陳小汎在台灣時間 6 月 26 日上午 5 時搭飛機從美國回台灣, 32 小時後抵達台灣, 他到達的時刻是台灣的幾月幾日幾時?