




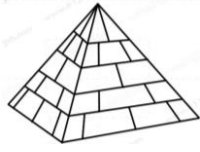





屏東縣恆春國小 106 學年度下學期第三次定期評量

領域：數學 第 7-9 單元 二年【 】班【 】號 姓名：【 】

一、看圖回答問題 (每題 1 分，共 21 分)


1. 有平平的面在()中打○，沒有平的打×。

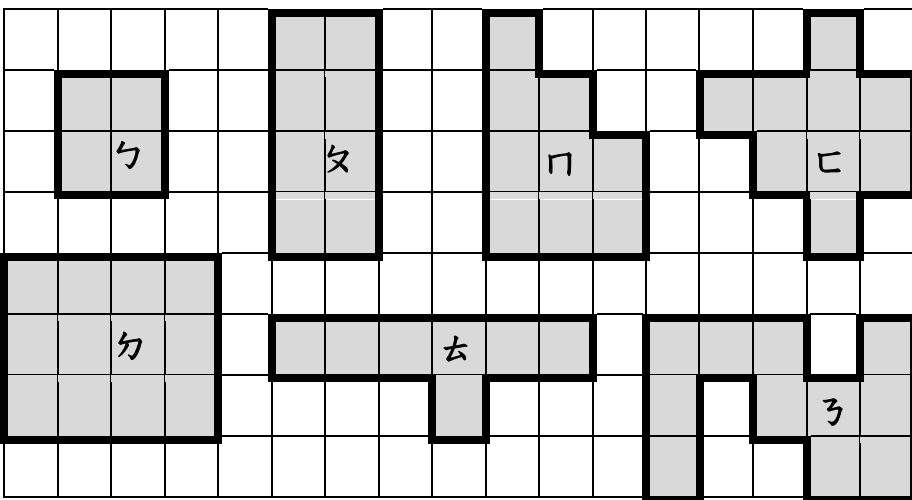
		
ㄅ ()	ㄆ ()	ㄇ ()
		
ㄨ ()	ㄨ ()	ㄨ ()
		
ㄩ ()	ㄩ ()	ㄩ ()








2. ㄅ 的形體叫做()體，它有()邊、()頂點和()面，是由()個正方形面組成的。

3. ㄨ 的形體叫做()體，它有()邊、()頂點和()面，是由()個長方形面和()個正方形面組成的。

4. 形體ㄅ 和 ㄨ 的邊(一樣多，不一樣多)。

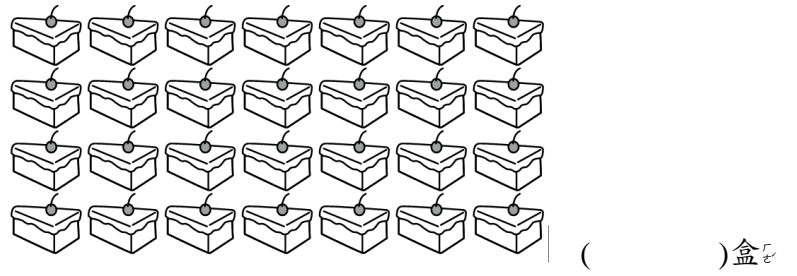
二、下面圖形各需要幾個  才能排滿？ (1 格 2 分，共 18 分)



- ㄅ 圖()個 
- ㄆ 圖()個 
- ㄇ 圖()個 
- ㄨ 圖()個 
- ㄨ 圖()個 
- ㄨ 圖()個 
- ㄩ 圖()個 
- ()圖的面最大；()圖的面最小。

三、看圖圈圖看 (1 題 4 分，共 8 分)

1. 每 4 個蛋糕裝成一盒，可以裝成幾盒？




2. 1 枝鉛筆賣 9 元，27 元可以買幾枝鉛筆？




四、畫○分分看 (1 題 4 分，共 8 分)

1. 12 顆草莓平分成 3 籃，每籃有()顆草莓。



2. 28 塊巧克力蛋糕平分分給 4 人，每人可以分得()塊蛋糕。



五、想一想，連連看 (每題 2 分，共 6 分)

56 顆草莓平分放在 7 個蛋糕上，每個蛋糕上有幾顆草莓？

用乘法算式記成： $8 \times 7 = 56$

算式中各數字各表示什麼？

8 表示

7 表示

56 表示

- 每個蛋糕上有 7 顆草莓
- 每個蛋糕上有 8 顆草莓
- 全部有 56 顆草莓
- 有 7 個蛋糕
- 有 8 個蛋糕

六、把做法用乘法算式記下來：

(每題 3 分，共 39 分)

1. 24 罐飲料怎麼平分？



(1) 每 3 罐裝 1 箱，可以裝成()箱？

算式：

(2) 每 6 罐裝 1 箱，可以裝成()箱？

算式：

(3) 平分給 8 人，每人可以分到()罐？

算式：

2. 1 個魚缸有 4 條魚，川田先生家裡有 7 個魚缸，小丸子又送他 3 條魚，川田先生共有幾條魚？

3. 竹筒裡原有 8 枝筷子，媽媽洗好再放進 8 雙筷子，竹筒裡共有幾枝筷子？

4. 孟孟今年 5 歲，媽媽今年年齡剛好是孟孟的 8 倍少 3 歲，媽媽今年幾歲？

5. 小璇買一盒彩色筆，付了 6 個 10 元硬幣，找回 8 元，這盒彩色筆賣幾元？

6. 分組玩遊戲，1 組有男生 3 人和女生 4 人，4 組共有幾人？

7. 1 包軟糖賣 5 元，主恩買了 8 包軟糖和 1 罐 10 元的養樂多，共要付幾元？

8. 1 箱芒果有 10 顆，亭亭買了 2 箱，阿藍買了 3 箱，兩人共買了幾顆芒果？

9. 1 盒仙貝有 11 片，咪咪買了 6 盒仙貝，送給綸蔚 3 盒，還剩下幾片仙貝？

10. 特賣會，原價 25 元的樂冰，每杯特價只賣 15 元，睿亨買了 3 杯，可便宜幾元？

11. 49 公分長的緞帶，每 7 公分剪成 1 段，可以剪成幾段？